



ESTADO DE RORAIMA
POLÍCIA CIVIL
SECRETARIA DE ESTADO DA
GESTÃO ESTRATÉGICA E ADMINISTRAÇÃO



CONCURSO PÚBLICO

002. PROVA OBJETIVA

AUXILIAR DE PERITO CRIMINAL DE POLÍCIA CIVIL

- ◆ Você recebeu sua folha de respostas e este caderno contendo 60 questões objetivas.
- ◆ Confira seus dados impressos na capa deste caderno e na folha de respostas.
- ◆ Quando for permitido abrir o caderno, verifique se está completo ou se apresenta imperfeições. Caso haja algum problema, informe ao fiscal da sala para a devida substituição desse caderno.
- ◆ Leia cuidadosamente todas as questões e escolha a resposta que você considera correta.
- ◆ Marque, na folha de respostas, com caneta de tinta preta, a letra correspondente à alternativa que você escolheu.
- ◆ A duração da prova é de 4 horas, já incluído o tempo para o preenchimento da folha de respostas.
- ◆ Só será permitida a saída definitiva da sala e do prédio após transcorridos 75% do tempo de duração da prova.
- ◆ Deverão permanecer em cada uma das salas de prova os 3 últimos candidatos, até que o último deles entregue sua prova, assinando termo respectivo.
- ◆ Ao sair, você entregará ao fiscal a folha de respostas e este caderno.
- ◆ Até que você saia do prédio, todas as proibições e orientações continuam válidas.

AGUARDE A ORDEM DO FISCAL PARA ABRIR ESTE CADERNO.

Nome do candidato _____

RG _____

Inscrição _____

Prédio _____

Sala _____

Carteira _____

CONHECIMENTOS GERAIS

LÍNGUA PORTUGUESA

01. Leia a tira.



(M. Schulz, "Minduin Charles". <https://cultura.estadao.com.br/quadrinhos>. 01.06.2022)

De acordo com a norma-padrão, as lacunas dos quadrinhos devem ser preenchidas, respectivamente, com:

- (A) aquele ... Isto ... confundiu ele
- (B) este ... Isto ... confundiu ele
- (C) esse ... Isso ... confundiu-lhe
- (D) este ... Isso ... confundiu-o
- (E) aquele ... Isto ... confundiu-o

Leia o texto para responder às questões de números 02 a 07.

Mais um massacre

No sábado (14.05), um jovem de 18 anos dirigiu seu carro por cerca de 300 km até um supermercado localizado em Buffalo, no estado americano de Nova York. Com um rifle semiautomático nas mãos, abriu fogo contra pessoas que estavam dentro e fora do estabelecimento, matando dez e ferindo três.

Embora as motivações do massacre ainda estejam sob investigação, suspeita-se que Payton Gendron tenha sido estimulado, em seu ato insano e abominável, por teorias racistas conspiratórias que têm deixado as franjas do extremismo para ganhar cada vez mais adeptos nos Estados Unidos.

Se o ominoso extremismo de direita aparece como provável motivação do atentado em Buffalo, é o acesso praticamente irrestrito a armas, inclusive às de uso militar, que torna morticínios do tipo tão comuns nos EUA. O tiroteio de sábado foi o 198º, somente neste ano, no qual ao menos quatro pessoas foram mortas ou feridas, segundo a ONG Gun Violence Archive.

O fato de Gendron ter sido submetido a uma avaliação mental há pouco menos de um ano, em razão de uma ameaça de ataque suicida feita quando era estudante, e ainda assim conseguir comprar legalmente um rifle de altíssima letalidade, exemplifica bem a permissividade da legislação do país.

Calcula-se que existam em solo americano cerca de 120 armas para cada 100 habitantes, fazendo dos EUA, de longe, o líder mundial em número *per capita*.

Apesar do firme compromisso do presidente Joe Biden com a reforma das leis sobre o tema, as principais iniciativas para tornar mais restrito o acesso acabam barradas num Congresso em que o *lobby* armamentista tem grande peso.

(Editorial. *Folha de S.Paulo*, 17.05.2022. Adaptado)

02. De acordo com o texto, nos Estados Unidos, são fatores que facilitam os massacres como o ocorrido em Buffalo:

- (A) o apoio da sociedade a esses crimes e o estímulo do próprio presidente.
- (B) o acesso às armas e o *lobby* armamentista do Congresso americano.
- (C) o valor das armas e as dificuldades de realização de avaliações mentais.
- (D) o apoio militar e a empatia que os americanos têm com o extremismo.
- (E) o jogo político das ONGs e a falta de saúde mental da maioria do povo.

03. Identifica-se o posicionamento do editorial em relação aos atos de massacre na passagem:

- (A) ... um jovem de 18 anos dirigiu seu carro por cerca de 300 km até um supermercado localizado em Buffalo, no estado americano de Nova York.
- (B) Com um rifle semiautomático nas mãos, abriu fogo contra pessoas que estavam dentro e fora do estabelecimento...
- (C) ... suspeita-se que Payton Gendron tenha sido estimulado, em seu ato insano e abominável, por teorias racistas conspiratórias...
- (D) ... no qual ao menos quatro pessoas foram mortas ou feridas, segundo a ONG Gun Violence Archive.
- (E) Calcula-se que existam em solo americano cerca de 120 armas para cada 100 habitantes, fazendo dos EUA, de longe, o líder mundial em número *per capita*.

04. Considere as passagens do texto:

- ... que têm deixado as franjas do extremismo para ganhar cada vez mais **adeptos** nos Estados Unidos. (2º parágrafo)
- Se o **ominoso** extremismo de direita aparece como provável motivação do atentado em Buffalo... (3º parágrafo)
- ... exemplifica bem a **permissividade** da legislação do país. (4º parágrafo)
- fazendo dos EUA, **de longe**, o líder mundial em número per capita. (5º parágrafo)

As expressões destacadas significam, correta e respectivamente:

- (A) combatentes; venturoso; indulgência; certamente.
- (B) colaboradores; frequente; facilidade; provavelmente.
- (C) partidários; execrável; tolerância; folgadoamente.
- (D) usuários; contundente; coibição; amplamente.
- (E) admiradores; indesejável; atualidade; efetivamente.

05. Na oração – **Embora** as motivações do massacre ainda estejam sob investigação... –, a expressão destacada estabelece relação de sentido de

- (A) concessão, o qual também está expresso em: **Apesar do** firme compromisso do presidente Joe Biden com a reforma das leis sobre o tema...
- (B) comparação, o qual também está expresso em: ... que estavam dentro e fora do estabelecimento, matando dez e ferindo três.
- (C) adversidade, o qual também está expresso em: ... inclusive às de uso militar, **que** torna morticínios do tipo tão comuns nos EUA.
- (D) condição, o qual também está expresso em: **Se** o ominoso extremismo de direita aparece como provável motivação do atentado em Buffalo...
- (E) finalidade, o qual também está expresso em: ... **para** ganhar cada vez mais adeptos nos Estados Unidos.

06. Assinale a alternativa que atende à norma-padrão de concordância verbal.

- (A) Faziam poucos meses que Gendron havia sido submetido a uma avaliação mental e, ainda assim, ele comprou legalmente uma arma.
- (B) No massacre praticado por um jovem de 18 anos, ocorrido no supermercado localizado em Buffalo, morreu dez pessoas e três ficaram feridas.
- (C) Ainda se investiga as motivações do massacre, mas suspeita-se que Payton Gendron tenha sido estimulado por teorias racistas conspiratórias.
- (D) Embora haja o compromisso do presidente com a reforma das leis, existem iniciativas para coibir o acesso às armas que acabam barradas no Congresso.
- (E) Somente em 2022, aconteceu, segundo a ONG Gun Violence Archive, 198 massacres nos EUA, com ao menos quatro pessoas mortas ou feridas.

07. O uso do acento indicativo da crase está de acordo com a norma-padrão em:

- (A) Um jovem de 18 anos dirigiu seu carro por cerca de 300 km e foi **à** um supermercado em Buffalo, no estado americano de Nova York.
- (B) Os Estados Unidos convive com a permissividade da legislação do país, o que torna mais difícil a restrição **à** obtenção de armas.
- (C) As iniciativas para limitar **à** circulação de armas acabam barradas num Congresso em que o lobby armamentista tem grande peso.
- (D) Gendron chegou **à** ser submetido a uma avaliação mental e, ainda assim, conseguiu comprar legalmente um rifle de altíssima letalidade.
- (E) Suspeita-se que Payton Gendron tenha cometido o massacre devido **à** motivações decorrentes das teorias racistas conspiratórias.

_____ o mundo com a tragédia da cineasta ucraniana Halyna Hutchins, morta pelo disparo de uma arma que _____ cenográfica, no dia 21 último, durante as filmagens de um western. Halyna tinha 42 anos. Ainda estava começando, mas já _____ de seu domínio de diversas disciplinas do cinema: era diretora de fotografia, operadora de câmera e criadora de uma surpreendente luz pessoal. Atuava também como produtora, e seu destino, para todos brilhante, seria a direção. A morte cortou esse destino, e Halyna se juntou à galeria de artistas que não souberam o que o futuro _____. Não há uma data certa para morrer, claro. Mas alguns poderiam ter esperado mais um pouco.

(Ruy Castro, "A morte cedo demais".
Folha de S.Paulo, 31.10.2021. Adaptado)

08. Em conformidade com a norma-padrão, as lacunas do texto devem ser preenchidas, respectivamente, com:

- (A) Se comoveu ... supunha-se... falava-se... reservava-lhes
- (B) Se comoveu ... se supunha ... se falava ... lhes reservava
- (C) Comoveu-se ... supunha-se... falava-se... reservava-lhes
- (D) Comoveu-se ... se supunha ... se falava ... lhes reservava
- (E) Comoveu-se ... se supunha ... falava-se... lhes reservava

09. O enunciado – Não há uma data certa para morrer... – expressa sentido de

- (A) consequência.
- (B) intensidade.
- (C) comparação.
- (D) entusiasmo.
- (E) imprecisão.

10. Na passagem – ... seu domínio de diversas disciplinas do cinema: era diretora de fotografia, operadora de câmera e criadora de uma surpreendente luz pessoal. –, o sinal de dois-pontos e a vírgula são empregados, correta e respectivamente, para indicar

- (A) a explicitação de uma informação (as disciplinas) e separar termos de uma enumeração.
- (B) a síntese de uma informação (seu domínio) e separar uma expressão adverbial de intensidade.
- (C) a explicação de uma informação (do cinema) e separar as três expressões explicativas.
- (D) a retificação de uma informação (as diversas disciplinas) e separar o sujeito do predicado da oração.
- (E) a definição de uma informação (domínio) e separar a expressão que funciona como aposto na oração.

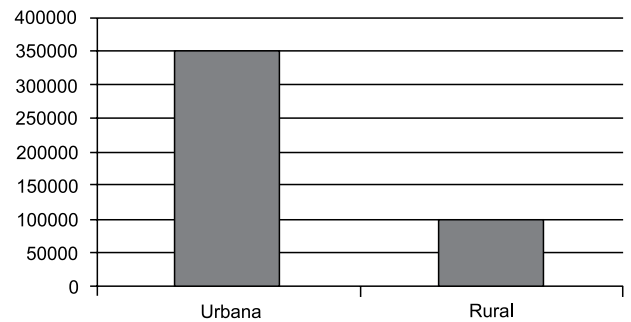
11. A área territorial do Estado de Roraima é de, aproximadamente, 224 301 km², segundo o Instituto Brasileiro de Geografia e Estatística (IBGE), dados de 2017.

Considere um retângulo de área exatamente igual a 224 301 km² e largura igual a 231 km. Nessas condições, o comprimento desse retângulo excederia a sua largura em

- (A) 940 km.
- (B) 890 km.
- (C) 840 km.
- (D) 790 km.
- (E) 740 km.

12. O gráfico a seguir apresenta informações aproximadas sobre a situação domiciliar no Estado de Roraima, segundo o censo de 2010 realizado pelo IBGE:

POPULAÇÃO RESIDENTE POR SITUAÇÃO DOMICILIAR



(<https://cidades.ibge.gov.br/brasil/rr/panorama>. Adaptado)

Com base nas informações apresentadas no gráfico, é correto afirmar que, em 2010, para cada grupo com dois moradores na zona rural, havia um grupo com, aproximadamente,

- (A) 5 moradores na zona urbana.
- (B) 7 moradores na zona urbana.
- (C) 9 moradores na zona urbana.
- (D) 11 moradores na zona urbana.
- (E) 13 moradores na zona urbana.

13. De acordo com informações do IBGE, a população estimada para o Estado de Roraima, em 2021, foi de, aproximadamente, 653 mil pessoas. Se no censo de 2010, realizado pelo mesmo instituto, a população desse estado era de, aproximadamente, 451 mil pessoas, então é correto afirmar que, de 2010 para 2021, a previsão de aumento populacional foi de, aproximadamente:

- (A) 39%
- (B) 41%
- (C) 43%
- (D) 45%
- (E) 47%

14. Com R\$ 101,20 a mais do que se possui, tem-se o valor exato para comprar 4 unidades de determinado produto. Comprando-se apenas 3 unidades desse produto, sobram R\$ 24,10 do valor que se possui. Para comprar 8 unidades desse produto, precisa-se adicionar, ao que se possui, no mínimo,
- (A) R\$ 602,40.
(B) R\$ 553,60.
(C) R\$ 498,40.
(D) R\$ 409,60.
(E) R\$ 361,40.
15. Para a produção de certa quantidade de peças, 4 prensas idênticas trabalham juntas, com a mesma capacidade de produção, durante 6 horas e meia de trabalho ininterrupto. Sendo assim, para a produção da mesma quantidade de peças, por apenas 3 dessas prensas, nas mesmas condições de trabalho, o tempo de trabalho ininterrupto esperado é de
- (A) 9 horas e 06 minutos.
(B) 8 horas e 40 minutos.
(C) 8 horas e 16 minutos.
(D) 7 horas e 50 minutos.
(E) 7 horas e 36 minutos.
16. Na tabela a seguir, são apresentados os números de caminhões existentes em 2019 e 2020, com placas registradas no Estado de Roraima, conforme publicado pelo IBGE.

Ano	Nº de caminhões
2019	5 392
2020	5 592

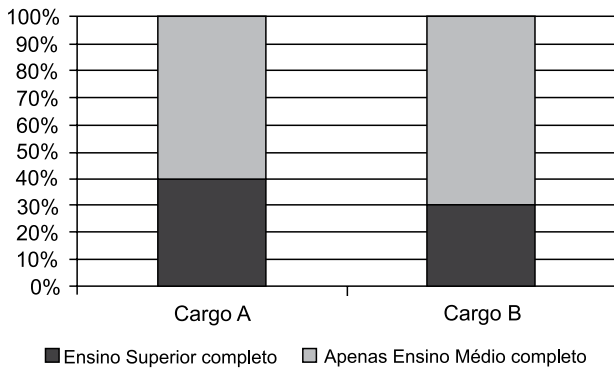
(<https://cidades.ibge.gov.br/brasil/rr/panorama>. Adaptado)

Sabendo-se que 5609 é a média aritmética simples do número de caminhões existentes em 2019, 2020 e 2021, com placas registradas no Estado de Roraima, o número desses caminhões, registrados em 2021, é

- (A) 5492.
(B) 5843.
(C) 6950.
(D) 8056.
(E) 8414.

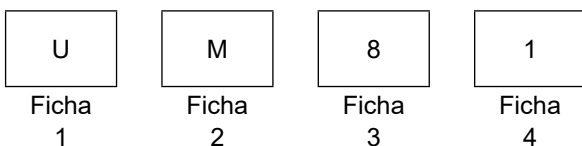
17. Em determinado concurso somente para os cargos A e B, no qual cada candidato podia fazer sua inscrição para um único cargo, a taxa de inscrição para o cargo A era de R\$ 250,00 e, para o cargo B, R\$ 200,00. Sabendo-se que, ao todo, 2 800 candidatos pagaram as suas inscrições para participar desse concurso, e que o valor total arrecadado com essas taxas foi de R\$ 640 mil, pode-se corretamente concluir que o número de candidatos que fizeram a inscrição para o cargo B corresponde, do número de candidatos que fizeram a inscrição para o cargo A, a
- (A) um meio.
 - (B) dois terços.
 - (C) três quartos.
 - (D) quatro quintos.
 - (E) cinco sextos.
18. Considere que, em uma pista de circuito fechado com comprimento de 2,5 km, três ciclistas, A, B e C, concluem uma volta em tempos médios de 4 minutos, 5 minutos e 6 minutos, respectivamente. Suponha que em um tempo t_0 esses três ciclistas passem, ao mesmo tempo, por um ponto de referência e mantenham as suas velocidades médias até o tempo t_1 , que será a vez imediatamente posterior em que eles passarão, ao mesmo tempo, por aquele mesmo ponto de referência. Nesse espaço de tempo, os três ciclistas terão percorrido, juntos, um total de quilômetros igual a
- (A) 91.
 - (B) 92,5.
 - (C) 94.
 - (D) 96,5.
 - (E) 98.

19. No gráfico a seguir são apresentadas informações sobre o grau de instrução dos candidatos que participaram de um concurso para os cargos A e B.



Com base nas informações apresentadas, assinale a alternativa que contém uma afirmação necessariamente verdadeira.

- (A) O número de candidatos que prestaram a prova para o cargo A é igual ao número de candidatos que prestaram a prova para o cargo B.
- (B) O número de candidatos que prestaram a prova para o cargo A é diferente do número de candidatos que prestaram a prova para o cargo B.
- (C) O número de candidatos com apenas o Ensino Médio completo é maior que o número de candidatos com Ensino Superior completo, para ambos os cargos.
- (D) O número de candidatos com apenas o Ensino Médio completo que prestaram a prova para o cargo A é o dobro do número de candidatos com o Ensino Superior completo que prestaram a prova para o cargo B.
- (E) O número de candidatos com apenas o Ensino Médio completo que prestaram a prova para o cargo B é maior que o número de candidatos com o Ensino Superior completo que prestaram a prova para o cargo A.
20. Considere que as fichas a seguir estão sobre uma mesa e que têm inscrições nas duas faces. Considere, também, que uma pessoa afirmou que, nas fichas a seguir, se há uma vogal em uma face, então há um número par na outra.



A fim de se determinar se a afirmação feita é verdadeira ou falsa, as fichas que precisam ser necessariamente viradas para que a outra face seja conferida são as de números

- (A) 1, 2, 3 e 4.
- (B) 2, 3 e 4, apenas.
- (C) 1, 3 e 4, apenas.
- (D) 2 e 3, apenas.
- (E) 1 e 3, apenas.

CONHECIMENTOS ESPECÍFICOS

CONHECIMENTOS DE INFORMÁTICA

21. Ao fazer um relatório de perícia, um usuário precisou usar muitos termos técnicos e siglas, que geralmente não estão previstos nas ferramentas de verificação de ortografia dos editores de texto. Ao editar um documento de texto pelo Google Docs, em configuração padrão, o usuário, para esse tipo de relatório, poderia cadastrar tais termos e siglas por meio do recurso _____, que permite adicionar palavras para que não sejam entendidas como erros de digitação ao se executar a verificação de ortografia.

Assinale a alternativa que preenche corretamente a lacuna do enunciado.

- (A) Palavras especiais.
- (B) Verificação avançada.
- (C) Dicionário pessoal.
- (D) Citações.
- (E) Caracteres especiais.

22. A planilha a seguir foi elaborada por meio do Google Docs, em sua configuração padrão em português.

	A	B
1	A	4
2		3
3	F	1
4		-2
5	D	A
6		

Assinale a alternativa que apresenta o valor exibido na célula A6, após esta ser preenchida com a seguinte fórmula: =CONT.SE(A1:B5;">-3")

- (A) 1
- (B) 3
- (C) 5
- (D) 6
- (E) 8

23. Algumas vezes, é necessário criar slides muitos parecidos na mesma apresentação. Uma opção para essa tarefa seria, partindo de um slide, gerar outro igual e, então, realizar as alterações desejadas. Em uma apresentação do Google Docs, em sua configuração padrão, um usuário poderia, para gerar outro slide igual, clicar com o botão secundário do mouse sobre um slide em miniatura e escolher a opção

- (A) Duplicar slide.
- (B) Clonar.
- (C) Novo slide.
- (D) Objetos vinculados.
- (E) Gerar réplica.

24. Uma mensagem de correio eletrônico foi enviada com sucesso por meio do Gmail, em sua configuração padrão, com os campos preenchidos conforme a seguir.

De: Graça

Para: Hélio

Cc: Júlio, Mariana

Cco: Tiago, Xavier, Zuleide

Assunto: Bruno

O usuário Tiago escolhe a opção responder a todos e, na mensagem de resposta, o número de destinatários preenchidos automaticamente é

- (A) 3.
- (B) 4.
- (C) 5.
- (D) 6.
- (E) 7.

25. Um usuário, navegando na internet com várias abas abertas por meio do Google Chrome versão 102 em português, em sua configuração padrão, deseja colocar todas as páginas abertas nos favoritos.

O atalho para adicionar todas as páginas, de uma vez só, aos favoritos, é:

- (A) Ctrl + Shift + A
- (B) Ctrl + Shift + D
- (C) Ctrl + Shift + F
- (D) Ctrl + Shift + J
- (E) Ctrl + Shift + W

26. Considere que um usuário utiliza todos os itens citados a seguir da forma correta e, mesmo assim, por algum motivo, seu computador foi afetado por um ransomware inédito.

Backup

Antivirus

Firewall

Anti-spyware

https

Assinale a alternativa que apresenta o item que permite ao usuário se recuperar dos efeitos do ramsonware.

- (A) Backup.
- (B) Antivirus.
- (C) Firewall.
- (D) Anti-spyware.
- (E) https.

27. Assinale a alternativa que apresenta o tipo de cópia de segurança em que a cada nova execução, serão verificados quais arquivos foram alterados desde a execução anterior e, caso haja alteração, copiará apenas os arquivos mais recentes.
- (A) Completo.
(B) SSD
(C) Fita.
(D) Atualizado.
(E) Incremental.

28. Uma das características mais vantajosas do uso de computação em nuvem é a facilidade de trabalho colaborativo. Com várias pessoas trabalhando em uma mesma planilha, é difícil acompanhar as mudanças. Por meio das planilhas do Google Docs, em sua configuração padrão, um usuário pode selecionar um grupo de células e escolher a opção Proteger Páginas e Intervalos, no menu Dados, que
- (A) oculta o conteúdo para não ser visível aos demais usuários.
(B) define uma senha de acesso ao intervalo.
(C) cria uma assinatura digital para o conteúdo.
(D) permite definir quem pode editar intervalos selecionados.
(E) adiciona uma marca d'água no intervalo selecionado.

NOÇÕES DE QUÍMICA, FÍSICA, BIOLOGIA E BIOSSEGURANÇA

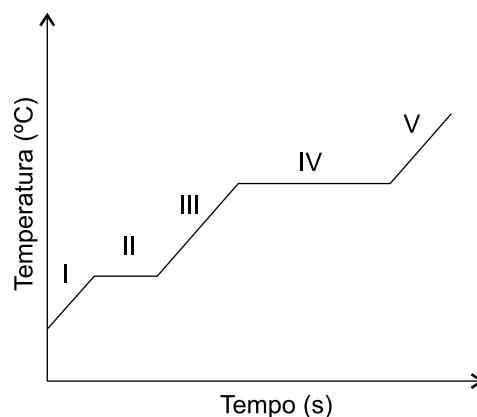
Obs.: A tabela periódica encontra-se no final deste caderno de questões.

29. Para preparar 250 mL de uma solução de ácido clorídrico, HCl , 6,0 mol/L, um funcionário de um laboratório químico empregou uma solução de ácido clorídrico concentrada, 12 mol/L.

O volume do ácido clorídrico concentrado empregado para a preparação da solução 6,0 mol/L foi

- (A) 25 mL.
(B) 50 mL.
(C) 100 mL.
(D) 125 mL.
(E) 150 mL.
30. O mercúrio apresenta densidade $13,6 \text{ g/cm}^3$ a $20 \text{ }^\circ\text{C}$. Nessa temperatura, a massa de uma amostra de 1L de mercúrio é
- (A) 1,36 g.
(B) 13,6 g.
(C) 136 g.
(D) 1,36 kg.
(E) 13,6 kg.

31. O chumbo, ponto de fusão $327 \text{ }^\circ\text{C}$ e ponto de ebulição $1740 \text{ }^\circ\text{C}$, é um dos metais presentes em resíduos de disparos de arma de fogo. O gráfico a seguir apresenta a variação da temperatura do chumbo quando é aquecido sob pressão constante.



O estado físico do chumbo a $450 \text{ }^\circ\text{C}$ e 1 atm refere-se ao estado físico representado nesse gráfico pelo segmento:

- (A) I.
(B) II.
(C) III.
(D) IV.
(E) V.
32. As impressões digitais são registradas nas extremidades dos dedos das mãos. O nome do osso do dedo localizado na região das mãos em que são registradas as impressões digitais é
- (A) carpo.
(B) metacarpo.
(C) capitato.
(D) falange distal.
(E) falange próxima.
33. A respeito de algumas medidas de biossegurança, apresentam-se as seguintes definições:


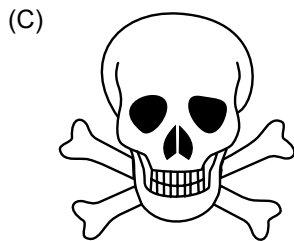


- I. processo de destruição ou eliminação total de todas as formas de vida microscópica.
II. conjunto de medidas adotadas para impedir que determinado meio seja contaminado.
III. processo de destruição de agentes infecciosos em forma vegetativa.

As afirmativas I, II e III referem-se, correta e respectivamente, à

- (A) esterilização, assepsia, desinfecção.
(B) esterilização, desinfecção, assepsia.
(C) assepsia, desinfecção, esterilização.
(D) desinfecção, esterilização, assepsia.
(E) desinfecção, assepsia, desinfecção.

34. No ambiente de trabalho, em relação à biossegurança, são utilizados alguns símbolos em laboratório para indicar a situação de risco.

Assinale a alternativa que apresenta o símbolo que alerta para o risco biológico.



NOÇÕES DE ARQUIVOLOGIA

35. Assinale a alternativa que apresenta, corretamente, as características do arquivo enquanto instituição de custódia documental.

- (A) Os documentos pertencentes ao acervo são originários de atividades culturais, científicas e técnicas, provenientes de diversas fontes geradoras.
- (B) A acumulação dos documentos é feita de maneira artificial, de acordo com o conteúdo ou a função da instituição produtora.
- (C) O processamento técnico dos documentos é realizado item a item, de acordo com a natureza do material e as finalidades específicas da instituição.
- (D) Os documentos do acervo são únicos, com tipos documentais regulares e organizados de acordo com os códigos padronizados internacionalmente.
- (E) Os documentos são acumulados organicamente e provenientes de uma única fonte geradora, representada pela administração do titular.

36. No fichário da correspondência de uma organização, estão arquivadas as pastas dos seguintes remetentes:

M. Soares - Miguel Soares Filho - Claudinei José do Espírito Santo - Almeida Sobrinho & Cia. Ltda. - Padre José Maria de Almeida Sobrinho - Marcelo Soares Júnior

Para ordenar as pastas alfabeticamente pelo nome dos remetentes, de acordo com as regras de alfabetação, a disposição correta será:

- (A) Almeida Sobrinho & Cia. Ltda.; Claudinei José do Espírito Santo; Padre José Maria de Almeida Sobrinho; Marcelo Soares Júnior; Miguel Soares Filho; M. Soares.
- (B) Padre José Maria de Almeida Sobrinho; Almeida Sobrinho & Cia. Ltda.; Claudinei José do Espírito Santo; M. Soares; Miguel Soares Filho; Marcelo Soares Júnior.
- (C) Almeida Sobrinho & Cia. Ltda.; Claudinei José do Espírito Santo; Marcelo Soares Júnior; Miguel Soares Filho; M. Soares; Padre José Maria de Almeida Sobrinho.
- (D) Claudinei José do Espírito Santo; Padre José Maria de Almeida Sobrinho; M. Soares; Marcelo Soares Júnior; Miguel Soares Filho; Almeida Sobrinho & Cia. Ltda.
- (E) Almeida Sobrinho & Cia. Ltda.; Miguel Soares Filho; Marcelo Soares Júnior; Claudinei José do Espírito Santo; M. Soares; Padre José Maria de Almeida Sobrinho.

37. Lei, portaria de nomeação, impressão, folha e papiro são, correta e respectivamente, exemplos de
- (A) série, item documental, técnica de registro, suporte e tipo.
 - (B) fundo, grupo, subgrupo, série e item documental.
 - (C) tipo, espécie, gênero, forma e formato.
 - (D) espécie, tipo, técnica de registro, formato e suporte.
 - (E) série, espécie, técnica de registro, forma e suporte.
38. Entende-se por tramitação a
- (A) passagem de documentos do arquivo corrente para o arquivo intermediário.
 - (B) sequência de diligências e de ações prescritas para o andamento de documentos de natureza administrativa, até seu julgamento ou solução.
 - (C) passagem de documentos do arquivo corrente ou do intermediário para o arquivo permanente.
 - (D) qualidade pela qual permanecem efetivos e válidos os encargos e disposições contidos nos documentos dos arquivos correntes.
 - (E) conjunto de atividades destinadas a orientar o usuário do arquivo sobre os documentos relativos ao tema de seu interesse, o acesso a eles e as condições para obter reproduções.
39. O nome dado ao instrumento responsável pela destinação dos documentos de uma organização, pública ou privada, no qual são informados os prazos para transferência, recolhimento, eliminação e reprodução dos documentos, é
- (A) tabela de equivalência.
 - (B) plano de classificação.
 - (C) tabela de temporalidade.
 - (D) plano de arquivamento.
 - (E) instrumento de pesquisa.
40. O nome dado ao conjunto das propriedades materiais dos suportes que permitem a guarda indefinida dos documentos, sob determinadas condições de controle é
- (A) qualidade arquivística.
 - (B) organicidade.
 - (C) estabilidade.
 - (D) integridade arquivística.
 - (E) encapsulação.
41. Nos termos da Constituição Federal, a República Federativa do Brasil, formada pela união indissolúvel dos Estados e Municípios e do Distrito Federal, constitui-se em Estado Democrático de Direito e tem, entre outros, como fundamentos:
- (A) a cidadania e a independência nacional.
 - (B) a dignidade da pessoa humana e a defesa da paz.
 - (C) o pluralismo político e a soberania.
 - (D) a soberania e a prevalência dos direitos humanos.
 - (E) o pluralismo político e a autodeterminação dos povos.
42. Assinale a alternativa que, nos termos da Constituição Federal, contempla um direito e uma garantia fundamental.
- (A) É livre a manifestação do pensamento, sendo autorizado o anonimato.
 - (B) Ninguém poderá ser compelido a associar-se ou a permanecer associado.
 - (C) É livre a expressão da atividade intelectual e artística, dependendo em todos os casos de licença do poder público.
 - (D) A lei não prejudicará o direito adquirido, o ato jurídico perfeito, exceto a coisa julgada.
 - (E) É autorizado o Tribunal de Exceção apenas nos crimes de guerra.
43. No que concerne ao regime jurídico administrativo, é correto afirmar que são características do regime estatutário:
- (A) unicidade de regime e não possui natureza contratual.
 - (B) pluralidade normativa e existência de contrato administrativo de caráter funcional.
 - (C) unicidade de regime e pluralidade de quadro funcional.
 - (D) pluralidade normativa e não possui natureza contratual.
 - (E) unidade normativa e natureza extracontratual especial.
44. Deste princípio decorre o deferimento de prerrogativas para o Poder Público ou para as entidades que integram a Administração Pública a fim de que exerçam suas funções. É correto afirmar que o enunciado se refere ao princípio da:
- (A) Autotutela.
 - (B) Indisponibilidade do Interesse Público.
 - (C) Presunção de Legitimidade.
 - (D) Segurança Jurídica.
 - (E) Supremacia do Interesse Público.

45. Com relação ao ato administrativo, é correto afirmar que
- (A) é uma manifestação de vontade, submissa ao regime jurídico administrativo, pelo Estado ou por quem lhe faça as vezes e ordenada para a produção de efeitos jurídicos.
 - (B) em razão da supremacia do interesse público, não se submete ao regime jurídico administrativo, sendo ordenado para a produção de efeitos jurídicos.
 - (C) é assim considerado somente aquele editado pelo Poder Executivo, que não se submete ao regime jurídico administrativo e que tem por finalidade adquirir, resguardar, transferir, modificar ou extinguir direitos.
 - (D) corresponde ao gênero, sendo que dele decorre como espécie o ato jurídico, e tem por finalidade adquirir, resguardar, transferir, modificar ou extinguir direitos.
 - (E) é assim considerado o acontecimento ou ocorrência natural que produz efeitos jurídicos, que não se submete ao regime jurídico administrativo e que tem por finalidade adquirir, resguardar, transferir, modificar ou extinguir direitos.
46. É o que detém a Administração para a sua organização estrutural, o que escalona seus órgãos e reparte suas funções, definindo, na forma da lei, os limites de competência de cada um. É correto afirmar que o enunciado se refere ao poder
- (A) da imperatividade.
 - (B) disciplinar.
 - (C) de polícia.
 - (D) hierárquico.
 - (E) discricionário.
47. No que concerne ao poder disciplinar é correto afirmar que:
- (A) não se confunde com o exercício do *jus puniendi* de que é titular o Estado.
 - (B) permite e alicerça o sancionamento da conduta de particulares.
 - (C) não corresponde ao dever de punição administrativa ante o cometimento de faltas funcionais.
 - (D) decorre do poder de polícia, estando alicerçado na oportunidade e conveniência da Administração.
 - (E) não é considerado uma decorrência do poder hierárquico.
48. É correto afirmar, no que concerne ao poder de polícia:
- (A) poderá ser exercido por toda Administração Pública, desde que visando a proteção do particular em detrimento do interesse coletivo, entretanto, sempre alicerçado nos seguintes atributos: discricionariedade, autoexecutoriedade e coercibilidade.
 - (B) trata-se de um poder discricionário, que decorre dos princípios da proporcionalidade e da razoabilidade, sendo que, atualmente, é exclusivo das Instituições policiais (Ex.: polícias federal, civil e militar).
 - (C) mesmo se tratando de um poder que decorre da supremacia do interesse público, não possui como atributo a autoexecutoriedade, apenas a discricionariedade e, eventualmente, a coercibilidade.
 - (D) decorre do poder disciplinar, tratando-se de uma discricionariedade do Estado, alicerçada na supremacia do interesse público, que é exercido, com exclusividade pelas polícias federal e civil.
 - (E) decorre da supremacia do interesse público em relação ao interesse do particular, resultando limites ao exercício de liberdade e propriedade deferidas aos particulares.
49. Com relação ao abuso do poder, é correto afirmar que
- (A) está alicerçado na violação do poder disciplinar, especialmente no que concerne à oportunidade e conveniência.
 - (B) o silêncio administrativo jamais será considerado uma espécie de abuso de poder.
 - (C) o desvio de finalidade pode ser considerado uma espécie de abuso de poder.
 - (D) o abuso de poder se manifesta apenas pelo excesso de poder, quando a Administração pratica algum ato ilegal.
 - (E) está alicerçado na violação do poder hierárquico, especialmente no que concerne à oportunidade e conveniência.
50. É correto afirmar que atualmente a regra estabelecida no Brasil considera a responsabilidade civil do Estado como
- (A) subjetiva, bastando a ocorrência do dano causado pela administração, também conhecida como teoria da culpa administrativa.
 - (B) objetiva, bastando a ocorrência do dano causado pela administração, também conhecida como teoria do risco administrativo.
 - (C) subjetiva, alicerçada na teoria da responsabilidade sem culpa, também conhecida como teoria do risco integral.
 - (D) objetiva, alicerçada na teoria da responsabilidade com culpa, também conhecida como teoria do risco integral.
 - (E) objetiva, bastando a ocorrência do dano causado pela administração, também conhecida como teoria da culpa administrativa.

LEGISLAÇÃO ESTADUAL

- 51.** Na hipótese de um servidor público estadual cometer um ato de improbidade administrativa, a Constituição do Estado de Roraima prevê expressamente a aplicação, entre outras sanções, de
- (A) cassação dos direitos políticos.
 - (B) prisão em flagrante.
 - (C) multa penal.
 - (D) suspensão de suas funções.
 - (E) indisponibilidade de seus bens.
- 52.** A instituição permanente e essencial à função jurisdicional do Estado, incumbindo-lhe a defesa da ordem jurídica, do regime democrático e dos interesses sociais individuais e indisponíveis, segundo a Constituição do Estado de Roraima, é
- (A) a Defensoria Pública.
 - (B) a Procuradoria-Geral do Estado.
 - (C) o Tribunal de Justiça.
 - (D) o Ministério Público.
 - (E) a Polícia Civil.
- 53.** Nos termos da Lei Complementar estadual nº 53/2001, no tocante às formas de provimento dos cargos públicos, a reintegração é
- (A) a reinvestidura do servidor estável no cargo anteriormente ocupado, ou no cargo resultante de sua transformação, quando invalidada a sua demissão por decisão administrativa ou judicial, com ressarcimento de todas as vantagens.
 - (B) o retorno do servidor estável ao cargo anteriormente ocupado decorrente de inabilitação em estágio probatório relativo a outro cargo.
 - (C) o retorno à atividade de servidor aposentado por invalidez quando junta médica oficial declarar insubsistentes os motivos da aposentadoria.
 - (D) o retorno à atividade de servidor em disponibilidade mediante aproveitamento obrigatório em cargo de atribuições e vencimentos compatíveis com o anteriormente ocupado.
 - (E) a investidura do servidor em cargo de atribuições e responsabilidades compatíveis com a limitação que tenha sofrido em sua capacidade física ou mental verificada em inspeção médica oficial.
- 54.** Herculano é servidor público do Estado de Roraima e trabalha habitualmente em uma atividade perigosa e em local insalubre. Segundo a Lei Complementar estadual nº 53/2001, nessa hipótese, Herculano
- (A) faz jus ao recebimento cumulativo dos adicionais de insalubridade e de periculosidade.
 - (B) deverá optar por receber apenas um dos adicionais, ou de insalubridade ou de periculosidade.
 - (C) tem direito ao adicional de insalubridade ou periculosidade, que não cessa com a eliminação das condições ou dos riscos que deram causa à sua concessão.
 - (D) tem direito apenas ao adicional de insalubridade no percentual de dez, vinte ou trinta por cento, de acordo com os graus mínimo, médio e máximo.
 - (E) deverá receber, além do adicional de insalubridade, o adicional de periculosidade correspondente ao percentual de dez por cento, calculado sobre o seu vencimento.
- 55.** Cícera é servidora pública estadual e promoveu uma representação a Narciso, seu superior hierárquico, a respeito de irregularidade na repartição cometida por Nerceu, também servidor e subordinado de Narciso. Nessa situação hipotética, e considerando o que dispõe a Lei Complementar estadual nº 53/2001, é correto afirmar que Narciso
- (A) nada poderá fazer, uma vez que não é da sua competência determinar a apuração dos fatos.
 - (B) deverá mandar instaurar um inquérito policial para apuração dos fatos.
 - (C) será considerado co-autor se não tomar as providências necessárias à apuração dos fatos.
 - (D) deverá comunicar diretamente ao Governador do Estado, caso Nerceu tenha cometido falta grave.
 - (E) tem o dever de comunicar o Secretário de Estado, caso Nerceu tenha cometido falta leve ou de média gravidade.
- 56.** Para fins da Lei Complementar estadual nº 54/2001 (Dispõe sobre o Regime Próprio de Previdência), no tocante à contribuição ordinária para o plano de custeio, o percentual de desconto poderá incidir, entre outras verbas, sobre
- (A) as diárias de viagem.
 - (B) a indenização de transporte.
 - (C) o salário-família.
 - (D) o abono de permanência.
 - (E) os adicionais de caráter individual.

- 57.** Nos termos da Lei Complementar estadual nº 54/2001, concluindo a perícia médica inicial pela existência de incapacidade total e definitiva do servidor para o trabalho, a aposentadoria por invalidez será devida a contar da data
- (A) do início da incapacidade ou da data da entrada do requerimento, se entre essas datas decorrerem mais de 30 (trinta) dias.
 - (B) da realização da perícia ou início da incapacidade, se entre essas datas decorrerem mais de 30 (trinta) dias.
 - (C) do evento que originou a incapacidade ou da data do requerimento, se este tiver sido formulado em até 30 (trinta) dias.
 - (D) da realização da perícia ou da entrada do requerimento, se entre essas datas decorrerem mais de 30 (trinta) dias.
 - (E) da realização da perícia ou da entrada do requerimento, se entre essas datas decorrerem mais de 60 (sessenta) dias.
- 58.** Segundo a Lei Complementar estadual nº 268/2018, o policial civil portador de neoplasia
- (A) é considerado incapaz definitivamente para o serviço policial, independentemente do grau da malignidade, mas terá direito a ser readaptado em outro cargo compatível com a sua capacidade laborativa.
 - (B) de elevado grau de malignidade será automaticamente considerado inapto para o trabalho policial, devendo ser aposentado compulsoriamente, com proventos proporcionais ao tempo de serviço na carreira policial.
 - (C) de elevado grau de malignidade será automaticamente considerado inapto para o trabalho policial, devendo ser aposentado compulsoriamente, com proventos proporcionais ao tempo de serviço público.
 - (D) de baixo grau de malignidade não será considerado incapaz definitivamente para o serviço policial, desde que a sua capacidade laborativa não tenha sido prejudicada pela doença ou pelos efeitos colaterais do tratamento.
 - (E) de grau médio ou elevado de malignidade será considerado definitivamente inapto para o serviço policial, mas terá direito à readaptação para cargo administrativo dentro da Polícia Civil.
- 59.** Nos termos da Lei Estadual de Roraima nº 418/2004, o administrado tem os seguintes direitos perante a Administração, sem prejuízo de outros que lhe sejam assegurados:
- (A) ser tratado de forma honrada e diferenciada pelas autoridades e servidores, que deverão orientar e auxiliar o cidadão no exercício de seus direitos e o cumprimento de suas obrigações.
 - (B) ter ciência da tramitação dos processos administrativos em que tenha a condição de interessado, ter vista dos autos, obter cópias de documentos neles contidos e ter ativa participação nas decisões proferidas.
 - (C) formular alegações e apresentar documentos antes ou depois da decisão e dos recursos, os quais serão objeto de consideração pelo órgão competente.
 - (D) fazer-se assistir, facultativamente, por advogado, salvo quando obrigatória a representação, por força de lei.
 - (E) ser comunicado previamente sobre todos os atos e decisões processuais a serem praticados que possam lhe ser desfavoráveis.
- 60.** A delegação de competências, nos termos do que dispõe a Lei Estadual nº 498/2005, deve ser feita por meio de
- (A) lei ou resolução.
 - (B) decreto ou portaria.
 - (C) decreto ou resolução.
 - (D) portaria ou resolução.
 - (E) ato delegativo ou deliberativo.

