



ESTADO DE RORAIMA
POLÍCIA CIVIL
SECRETARIA DE ESTADO DA
GESTÃO ESTRATÉGICA E ADMINISTRAÇÃO



CONCURSO PÚBLICO

001. PROVA OBJETIVA

AUXILIAR DE NECROPSIA DE POLÍCIA CIVIL

- ◆ Você recebeu sua folha de respostas e este caderno contendo 60 questões objetivas.
- ◆ Confira seus dados impressos na capa deste caderno e na folha de respostas.
- ◆ Quando for permitido abrir o caderno, verifique se está completo ou se apresenta imperfeições. Caso haja algum problema, informe ao fiscal da sala para a devida substituição desse caderno.
- ◆ Leia cuidadosamente todas as questões e escolha a resposta que você considera correta.
- ◆ Marque, na folha de respostas, com caneta de tinta preta, a letra correspondente à alternativa que você escolheu.
- ◆ A duração da prova é de 4 horas, já incluído o tempo para o preenchimento da folha de respostas.
- ◆ Só será permitida a saída definitiva da sala e do prédio após transcorridos 75% do tempo de duração da prova.
- ◆ Deverão permanecer em cada uma das salas de prova os 3 últimos candidatos, até que o último deles entregue sua prova, assinando termo respectivo.
- ◆ Ao sair, você entregará ao fiscal a folha de respostas e este caderno.
- ◆ Até que você saia do prédio, todas as proibições e orientações continuam válidas.

AGUARDE A ORDEM DO FISCAL PARA ABRIR ESTE CADERNO.

Nome do candidato _____

RG _____

Inscrição _____

Prédio _____

Sala _____

Carteira _____

CONHECIMENTOS GERAIS

LÍNGUA PORTUGUESA

Leia a tira para responder às questões de números 01 e 02.



(Bill Watterson. *O mundo é mágico* – as aventuras de Calvin e Haroldo. São Paulo: Conrad Editora do Brasil, 2010)

01. A leitura da tira permite concluir que, para o homem, o avanço tecnológico

- (A) vem acontecendo em uma velocidade muito além da ideal.
- (B) trouxe a solução para a urgência exigida para algumas atividades.
- (C) cria a dificuldade de se acostumar ao maior tempo disponível ao lazer.
- (D) traz exigências que impactam de modo negativo na qualidade de vida.
- (E) é benéfico ao reduzir o tempo dedicado ao trabalho pela geração atual.

02. Em conformidade com a norma-padrão da língua, a forma verbal que preenche corretamente a lacuna presente no último quadrinho é:

- (A) devemos.
- (B) deveremos.
- (C) deveríamos.
- (D) devamos.
- (E) devêssemos.

Leia o texto, para responder às questões de números 03 a 10.

Entrevista que não houve

Em novembro de 1967, eu estava telefonando para Guimarães Rosa em nome da revista *Manchete*, onde trabalhava, pedindo uma entrevista. Naquela semana, Rosa finalmente tomaria posse de sua cadeira na Academia Brasileira de Letras, para a qual fora eleito por unanimidade em 1963. Ainda não a assumira porque, médico e cardíaco, temia não sobreviver à cerimônia. Mas agora era a hora.

Nunca entendi por que Justino Martins, diretor da *Manchete*, incumbiu-me da tarefa. A revista estava cheia de repórteres experientes – dois deles os poetas Lêdo Ivo e Homero Homem, certamente amigos de Rosa. Eu tinha, se

tanto, seis meses de profissão e acabara de chegar à Revista. Mas foi assim. Justino convocou-me à sua mesa, deu-me o número do telefone de Rosa e só me recomendou que chamasse o homem de embaixador – o que Rosa também era.

Naquele mesmo dia, telefonei. O próprio Rosa atendeu e, muito amável, desculpou-se, alegando que estava escrevendo seu discurso de posse e não podia parar para dar entrevistas, mesmo que fosse para *Manchete*. Eu insisti, “Mas, embaixador...”. E ele, firme – neca. Mas, talvez tocado pela evidente juventude do repórter, sugeri que eu telefonasse no dia seguinte – quem sabe já teria terminado o discurso. Fiz isto, mas, não, ele não havia terminado. Como consolação, disse que, se eu fosse à cerimônia, me daria uma cópia do texto.

Rosa tomou posse na quinta-feira, 16. Ao fim do discurso e sob a chuva de aplausos, saiu pelo salão apertando mãos, como se levitasse a um metro do chão. Parecia encantado, não via ninguém – só a mim cumprimentou duas vezes, sem saber quem eu era. E o coração resistiu bem, não o traiu.

Deixou para traí-lo três dias depois, na noite de domingo, 19, no seu apartamento, em Copacabana. E eu me esquecera de pedir-lhe o discurso.

(Ruy Castro. *A arte de querer bem* – Crônicas. Rio de Janeiro: Estação Brasil, 2018. Excerto adaptado)

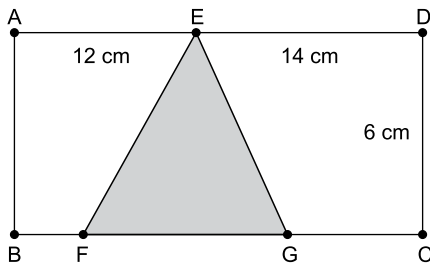
03. O autor do texto trata

- (A) das dificuldades encontradas quando era repórter, em geral devidas à postura presunçosa das personagens que precisava entrevistar.
- (B) do desvirtuamento da Academia Brasileira de Letras, a qual dera posse a um médico, mas não a poetas como Lêdo Ivo e Homero Homem.
- (C) da oportunidade que tivera de testemunhar um momento importante da vida Guimarães Rosa, apesar de não ter conseguido entrevistá-lo.
- (D) do pesar que sente por ter sido recusado, dada a sua inexperiência, para o que poderia ter sido a entrevista mais importante da sua carreira.
- (E) da grande expectativa que criara por um discurso de posse na Academia Brasileira de Letras, do qual se desinteressou logo após ouvi-lo.

04. Considerando a relação de sentido que estabelece com o enunciado que a antecede, a expressão destacada na frase do terceiro parágrafo – ... **mesmo que** fosse para Manchete. – está corretamente substituída em:
- (A) ... **desde que** fosse para Manchete.
 (B) ... **ainda que** fosse para Manchete.
 (C) ... **uma vez que** fosse para Manchete.
 (D) ... **contanto que** fosse para Manchete.
 (E) ... **de maneira que** fosse para Manchete.
05. A expressão destacada na frase do primeiro parágrafo “... para a qual fora eleito **por unanimidade** em 1963” exprime a ideia de que
- (A) ocorreu pressão externa para a aceitação do escritor para a Academia.
 (B) pairavam dúvidas sobre a eleição do escritor para a Academia.
 (C) houve favorecimento na eleição do escritor para a Academia.
 (D) existiu erro de julgamento na eleição do escritor para a Academia.
 (E) houve concordância geral sobre a eleição do escritor para a Academia.
06. No contexto, é empregada em sentido figurado a expressão destacada na frase:
- (A) ... eu estava telefonando para Guimarães Rosa em nome da revista Manchete, onde trabalhava, pedindo **uma entrevista**. (1º parágrafo)
 (B) ... Rosa finalmente tomaria posse de sua cadeira na Academia Brasileira de Letras, para a qual fora **eleito** por unanimidade. (1º parágrafo)
 (C) Justino **convocou-me** à sua mesa, deu-me o número do telefone de Rosa... (2º parágrafo)
 (D) O próprio Rosa atendeu e, muito **amável**, desculpou-se, alegando que estava escrevendo seu discurso de posse... (3º parágrafo)
 (E) Rosa tomou posse na quinta-feira, 16. Ao fim do discurso e sob a **chuva de aplausos**, saiu pelo salão apertando mãos... (4º parágrafo)
07. No contexto, a frase do quarto parágrafo “... como se levitasse a um metro do chão.” expressa
- (A) uma comparação entre Guimarães Rosa e os demais presentes em sua posse.
 (B) o modo como o escritor Guimarães Rosa se sentia ao fim do discurso de posse.
 (C) a razão de Guimarães Rosa ter recusado cumprimentar as pessoas após a posse.
 (D) uma dúvida sobre o merecimento da admissão de Guimarães Rosa na academia.
 (E) a finalidade de Guimarães Rosa ao distribuir cumprimentos após o discurso de posse.
08. Assinale a alternativa em que, na frase escrita a partir do texto, o uso da crase está em conformidade com a norma-padrão da língua.
- (A) **À** época da entrevista, o repórter trabalhava na extinta revista Manchete.
 (B) O autor foi convocado **à** realizar uma entrevista com um importante escritor.
 (C) Por fim, o escritor não concedeu entrevista **à** nenhum repórter após a posse.
 (D) Costumam ser muito badaladas **às** cerimônias na Academia Brasileira de Letras.
 (E) Os eventos na Academia Brasileira de Letras são abertos **à** toda a imprensa.
09. Considere a frase do segundo parágrafo:
- Nunca entendi por que Justino Martins, diretor da Manchete, **incumbiu-me da** tarefa.
- Assinale a alternativa em que, com a substituição da forma verbal “incumbiu-me”, a frase permanece em conformidade com a norma-padrão de regência verbal e preserva o sentido do texto original.
- (A) Nunca entendi por que Justino Martins, diretor da Manchete, **encarregou-me à** tarefa.
 (B) Nunca entendi por que Justino Martins, diretor da Manchete, **confiou-me da** tarefa.
 (C) Nunca entendi por que Justino Martins, diretor da Manchete, **atribuiu-me da** tarefa.
 (D) Nunca entendi por que Justino Martins, diretor da Manchete, **delegou-me a** tarefa.
 (E) Nunca entendi por que Justino Martins, diretor da Manchete, **encomendou-me com a** tarefa.
10. Em conformidade com a norma-padrão de pontuação, a regra que determina o emprego da vírgula na frase do primeiro parágrafo “Em novembro de 1967, eu estava telefonando para Guimarães Rosa em nome da revista Manchete...” também rege o emprego dela em:
- (A) Naquela semana, Rosa finalmente tomaria posse de sua cadeira na Academia Brasileira de Letras... (1º parágrafo)
 (B) Justino convocou-me à sua mesa, deu-me o número do telefone de Rosa e só me recomendou que chamasse o homem de embaixador... (2º parágrafo)
 (C) Ao fim do discurso e sob a chuva de aplausos, saiu pelo salão apertando mãos... (4º parágrafo)
 (D) Parecia encantado, não via ninguém... (4º parágrafo)
 (E) E o coração resistiu bem, não o traiu. (4º parágrafo)

11. Paulo ministra um curso de técnicas em laboratório a cada 9 dias no período da tarde e um curso de direção defensiva a cada 12 dias no período da manhã. Se em uma certa quarta-feira ele ministrou esses dois cursos, a próxima vez em que ele ministrará esses cursos no mesmo dia será em uma
- (A) segunda-feira.
 - (B) terça-feira.
 - (C) quarta-feira.
 - (D) quinta-feira.
 - (E) sexta-feira.
12. Uma atividade foi realizada em um parque e os participantes foram divididos em dois grandes grupos. No primeiro grupo, a razão entre os números de homens e mulheres era de $\frac{4}{5}$. Em relação ao primeiro grupo, o segundo grupo tinha 9 homens a mais e 19 mulheres a menos. Sabendo-se que, no segundo grupo, o número de homens era igual ao número de mulheres, o total de participantes nessa atividade foi
- (A) 494.
 - (B) 528.
 - (C) 564.
 - (D) 602.
 - (E) 668.
13. Um frasco contém uma mistura de água e álcool, sendo que o volume de água é igual a 12% do volume de álcool. Sabendo-se que a diferença entre os volumes de álcool e água nesse frasco é igual a 231,44 mL, o volume total dessa mistura é
- (A) 259,21 mL.
 - (B) 294,56 mL.
 - (C) 328,45 mL.
 - (D) 365,56 mL.
 - (E) 388,45 mL.
14. Uma impressora A imprime 12 páginas por minuto, e uma impressora B imprime 15 páginas por minuto. Essas duas impressoras iniciaram a impressão de 4440 páginas de um certo trabalho ao mesmo tempo e funcionaram ininterruptamente por 2 horas e 15 minutos, momento em que a impressora A foi desligada. O tempo, em minutos, necessário para que a impressora B, trabalhando sozinha, finalizasse a impressão foi
- (A) 50.
 - (B) 51.
 - (C) 52.
 - (D) 53.
 - (E) 54.

15. Joana trabalha 8 horas por dia, recebe por hora trabalhada e algumas vezes precisa fazer horas extras. O valor da hora extra trabalhada é R\$ 35,00 a mais do que o valor da sua hora de trabalho normal. Em certo mês, Joana trabalhou por 16 dias e fez um total de 32 horas extras, tendo recebido, em média, R\$ 72,00 por hora de trabalho, considerando as horas de trabalho normal mais as horas extras. O total recebido por Joana, nesse mês, foi
- (A) R\$ 9.980,00.
 (B) R\$ 10.360,00.
 (C) R\$ 11.520,00.
 (D) R\$ 12.140,00.
 (E) R\$ 13.700,00.
16. Os ingressos para um espetáculo custaram R\$ 30,00 no setor A e R\$ 45,00 no setor B. Foram vendidos 120 ingressos a mais para o setor B do que para o setor A e a arrecadação total com a venda de ingressos foi R\$ 19.050,00. O total de ingressos vendidos foi
- (A) 460.
 (B) 484.
 (C) 508.
 (D) 532.
 (E) 556.
17. Um retângulo ABCD com 6 cm de altura e 26 cm de comprimento foi dividido no triângulo EFG e nos trapézios ABFE e CDEG, conforme a figura.



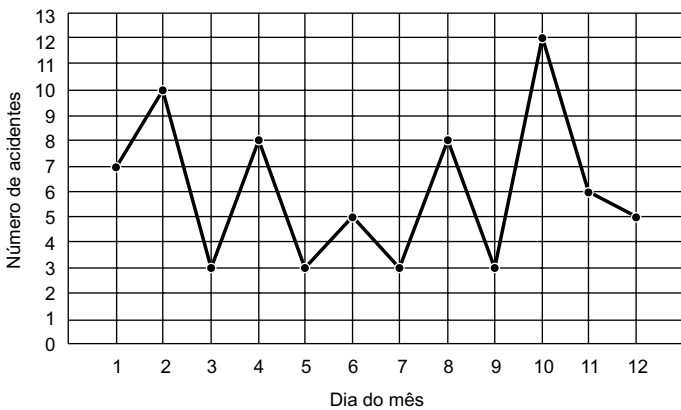
(Figura fora de escola)

Sabendo-se que a soma das áreas dos trapézios é igual a 117 cm^2 e que o segmento GC é 1 cm maior que o segmento BF, a medida do segmento GC, em cm, é

- (A) 5.
 (B) 6.
 (C) 7.
 (D) 8.
 (E) 9.

18. Um grupo é formado por 103 pessoas, de maneira que 34 usam óculos, 19 usam lentes de contato, 48 usam bengala e alguns não usam óculos, nem lentes de contato e nem bengala. Quem usa lentes de contato não usa óculos, além disso, quem usa bengala não usa lentes de contato. O número daqueles que só usam bengala excede o número daqueles que só usam óculos em 14. O número daqueles que usam dois desses itens é igual à metade do número daqueles que, dos três itens, nada usam. O algarismo das unidades do número de pessoas que usam apenas bengala é
- (A) 2.
(B) 3.
(C) 4.
(D) 5.
(E) 6.

19. Os números de acidentes de trânsito registrados nos 12 primeiros dias de 2022 em uma certa cidade foram registrados no gráfico a seguir.



De acordo com os dados registrados no gráfico, é certo que, nesses 12 dias,

- (A) houve uma média de 6,8 acidentes por dia.
(B) a maioria dos acidentes ocorreu em dias ímpares.
(C) os acidentes em dias pares foram mais fatais.
(D) aproximadamente 12% dos acidentes aconteceram no dia 10.
(E) em $\frac{2}{3}$ desses dias, houve menos de 8 acidentes por dia.
20. Um arquivo possuía 30 caixas, cada caixa com o mesmo número de pastas. O responsável por esse arquivo determinou que 6 caixas, juntamente com suas pastas, deveriam ser recicladas. Em seguida, o responsável retirou 5 pastas de cada caixa restante e distribuiu essas pastas retiradas em outras 6 caixas novas, ficando cada uma com 3 pastas a menos do que as caixas originais. O número de pastas que foram recicladas foi
- (A) 138.
(B) 144.
(C) 156.
(D) 162.
(E) 174.

CONHECIMENTOS ESPECÍFICOS

CONHECIMENTOS DE INFORMÁTICA

21. Para inserir a data de hoje em um documento de texto sendo editado no ambiente Google, em configuração padrão, um usuário pode utilizar a seguinte expressão:

- (A) #hoje
- (B) %hoje
- (C) *hoje
- (D) !hoje
- (E) @hoje

22. A imagem a seguir mostra uma planilha sendo elaborada por meio do ambiente Google, em sua configuração padrão.

	A	B	C	D
1	1	3	4	5
2	2	4	1	3
3				

O valor exibido na célula D3, após esta ser preenchida com a fórmula =MAIOR(A1:D2;3), é:

- (A) 5
- (B) 4
- (C) 3
- (D) 2
- (E) 1

23. No ambiente de apresentações do Google, em sua configuração padrão, um usuário pode aplicar em um texto a mesma formatação aplicada a outro texto fazendo uso do botão

- (A) Selecionar.
- (B) Colar.
- (C) Marcas de formatação.
- (D) Pintar formatação.
- (E) Reaplicar.

24. Observe a descrição de duas mensagens de correio eletrônico a seguir. Considere que todas as mensagens foram enviadas e recebidas com sucesso por meio do Gmail, em sua configuração padrão.

Mensagem 1:

De: Marcos
Para: Marta
Cc: Marcelo
Cco: Miriam
Assunto: Nomes com M

Mensagem 2:

Marcelo, ao receber a Mensagem 1, escolheu Responder a todos e enviou a mensagem.

A esse respeito, assinale a alternativa correta.

- (A) Marcelo recebeu duas mensagens.
- (B) Marcos recebeu duas mensagens.
- (C) Marta recebeu uma mensagem.
- (D) Miriam recebeu uma mensagem.
- (E) Marta não recebeu a mensagem de Marcelo.

25. Existem muitos programas navegadores de internet para diferentes sistemas Operacionais (Windows, Linux e MacOS). Assinale a alternativa que apresenta o navegador de internet padrão no MS-Windows 10.

- (A) Edge.
- (B) Safari.
- (C) Google Chrome.
- (D) Mozilla Firefox.
- (E) Internet Explorer.

26. Assinale a alternativa que relaciona corretamente um recurso usado para segurança e sua respectiva finalidade.

- (A) anti-spyware: bloquear pacotes de rede.
- (B) honeypot: servir de local de armazenamento seguro.
- (C) firewall: monitora e controla tráfego de rede.
- (D) criptografia: eliminar vírus.
- (E) esteganografia: assinatura digital.

27. A comunicação segura por meio de certificado digital em sites que fazem uso de senhas e outros dados criptografados é possível através do protocolo

- (A) SSD.
- (B) SSL.
- (C) DDOS.
- (D) PING.
- (E) ARP.

28. Assinale a alternativa correta em relação ao armazenamento de arquivos em nuvem por meio do Google Drive, em sua configuração padrão.

- (A) Está integrado com o Google Docs.
- (B) O compartilhamento de arquivos é restrito a contas da mesma instituição.
- (C) Todos os arquivos dentro de uma pasta devem estar no mesmo formato.
- (D) Arquivos devem ter tamanho máximo de 50MB.
- (E) Não pode ser armazenado arquivo no formato exe.

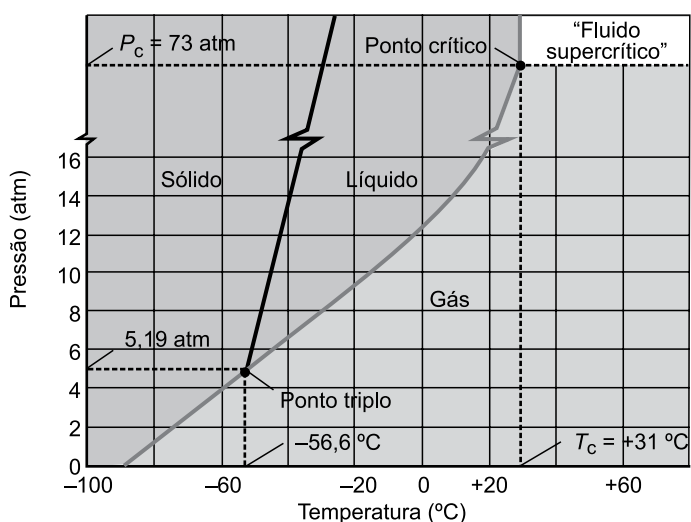
NOÇÕES DE QUÍMICA, FÍSICA, BIOLOGIA E BIOSSEGURANÇA

29. A molaridade (mol/L) de uma solução preparada dissolvendo-se 36 gramas de glicose em água suficiente para produzir 1 litro da solução é

Dado: massa molar da glicose = 180 g/mol

- (A) 0,2.
- (B) 0,36.
- (C) 2,0.
- (D) 3,6.
- (E) 20,0.

30. Observe o diagrama de fases do CO₂ ilustrado a seguir.



(Kotz, J. C. Química Geral e Reações Químicas, v.1)

A partir do diagrama, é correto afirmar:

- (A) a curva de equilíbrio sólido-líquido do CO₂ tem uma inclinação negativa.
- (B) ao aumentar a pressão sobre o sólido em equilíbrio com o líquido, o equilíbrio será deslocado para a fase menos densa, que é a gasosa.
- (C) o ponto triplo ocorre à pressão de 5,19 atm e temperatura de $-56,6 \text{ }^\circ\text{C}$.
- (D) o dióxido de carbono não pode ser um líquido em pressões inferiores a 73 atm.
- (E) a uma pressão de 1 atm, o CO₂ sólido está em equilíbrio com o gás a uma temperatura de $+31 \text{ }^\circ\text{C}$.

31. O símbolo a seguir, presente no rótulo de um frasco com reagente, indica a presença de substância



- (A) tóxica.
- (B) explosiva.
- (C) comburente.
- (D) combustível.
- (E) corrosiva.

32. Assinale a alternativa correta em relação às unidades de base e derivadas, assim como das grandezas derivadas do Sistema Internacional (SI).

- (A) O segundo (s) é a duração de 9.192.631.770 períodos da radiação correspondente à transição entre os dois níveis hiperfinos do estado fundamental do átomo de césio 133.
- (B) A área (A) é uma grandeza derivada medida como unidade derivada em m³.
- (C) O grau Celsius (C) é a unidade base da temperatura termodinâmica e corresponde à fração de 1/273,16 da temperatura termodinâmica no ponto tríplice da água.
- (D) A força é uma unidade derivada do SI medida em newton (N) e que é determinada pela expressão $\text{kg}\cdot\text{m}^{-1}\cdot\text{s}^{-2}$.
- (E) A resistência elétrica é uma unidade derivada do SI medida em siemens (S), que equivale à razão entre a corrente a voltagem (A/V).

33. A estrutura presente na ramificação final do sistema respiratório, formada por membranas de paredes finas dispostas ao lado de capilares sanguíneos, onde é realizada a troca gasosa, é denominada

- (A) lobo pulmonar.
- (B) alvéolo pulmonar.
- (C) brônquio.
- (D) bronquíolo.
- (E) traqueia.

34. A coluna vertebral é composta por 33 vértebras individuais distribuídas por regiões em cervicais, torácicas, lombares, sacrais e coccígenas. É correto afirmar que um ser humano tem

- (A) 5 vértebras cervicais.
- (B) 10 vértebras torácicas.
- (C) 8 vértebras lombares.
- (D) 4 ou 5 vértebras sacrais fundidas.
- (E) 6 a 7 vértebras coccígenas fundidas.

NOÇÕES DE ARQUIVOLOGIA

35. A relação natural entre documentos de um arquivo em decorrência do desempenho das atividades realizadas na entidade produtora é denominada
- (A) naturalidade.
 - (B) pertinência arquivística.
 - (C) pertinência territorial.
 - (D) procedência.
 - (E) organicidade.
36. No que concerne à Tabela de Temporalidade de Documentos, é correto afirmar que esse instrumento define os
- (A) prazos para a guarda temporária e permanente dos documentos.
 - (B) princípios de conservação preventiva para guarda de documentos.
 - (C) espaços na instituição para ordenação física de documentos.
 - (D) responsáveis pela elaboração e gestão dos documentos.
 - (E) prestadores de serviço contratados para fragmentar os documentos eliminados.
37. O nome dado ao esquema das áreas de depósito de um arquivo, por meio do qual se indica a disposição das estantes e de outros equipamentos, bem como a utilização atual e futura do espaço disponível, é plano de
- (A) acondicionamento.
 - (B) armazenamento.
 - (C) classificação.
 - (D) destinação.
 - (E) emergência.
38. É comum o armazenamento de MDA (massa documental acumulada) em locais inapropriados como porões, lavanderias, laboratórios e banheiros desativados. O agente causador de deterioração dos documentos presente em todos os locais citados é a
- (A) iluminação natural.
 - (B) alta temperatura.
 - (C) umidade do ambiente.
 - (D) presença de poluentes atmosféricos.
 - (E) ausência de ventilação.

39. Especificação de requisitos mínimos que estabelece o conjunto de condições a serem cumpridas por um sistema informatizado de gestão arquivística para garantir a sua confiabilidade e autenticidade. Trata-se da definição de
- (A) SIGAD.
 - (B) GED.
 - (C) OCR.
 - (D) e-ARQ Brasil.
 - (E) DOI.
40. Assinale a alternativa correta.
- (A) A representação de todo e qualquer conteúdo passível de ser comunicado, processado e interpretado de forma manual ou automática denomina-se cópia de segurança.
 - (B) A informação registrada, codificada em dígitos binários, acessível e interpretável por meio de sistema computacional é denominada documento digital.
 - (C) A conversão de um formato para outro motivada pela normalização de formatos e para contornar a obsolescência tecnológica denomina-se documento eletrônico.
 - (D) O conjunto de dados estruturados, com as respectivas regras de acesso e validação, e gerenciados por um sistema de banco de dados consiste na definição de assinatura digital.
 - (E) A informação registrada em forma analógica ou em dígitos binários e interpretável por meio de um equipamento eletrônico corresponde à definição de dado.

NOÇÕES DE DIREITO CONSTITUCIONAL E ADMINISTRATIVO

41. Considerando a classificação das normas constitucionais quanto à sua eficácia e aplicabilidade, assinale a alternativa que indica a correta classificação da seguinte norma da Carta Magna brasileira: “é livre o exercício de qualquer trabalho, ofício ou profissão, atendidas as qualificações profissionais que a lei estabelecer.”
- (A) Norma de eficácia plena.
 - (B) Norma de eficácia limitada.
 - (C) Norma de eficácia contida.
 - (D) Norma de princípio institutivo.
 - (E) Norma programática.

42. No que diz respeito às associações, a Constituição Federal estabelece, em seu artigo 5º, que
- (A) é plena a liberdade de associação para fins lícitos, inclusive a de caráter paramilitar.
 - (B) a criação de associações depende de autorização, sendo vedada a interferência estatal em seu funcionamento.
 - (C) as associações só poderão ser compulsoriamente dissolvidas ou ter suas atividades suspensas por decreto do Chefe do Poder Executivo.
 - (D) ninguém poderá ser compelido a associar-se ou a permanecer associado, mas terá a obrigação de custear sua associação de classe.
 - (E) as entidades associativas, quando expressamente autorizadas, têm legitimidade para representar seus filiados judicial ou extrajudicialmente.
43. Cícero é cidadão brasileiro e teve conhecimento de ato praticado por um governante que foi lesivo ao patrimônio público. Nessa situação, o texto constitucional prevê, expressamente, que Cícero, na condição de cidadão, poderá tentar anular o ato lesivo ajuizando
- (A) ação popular.
 - (B) mandado de segurança.
 - (C) *habeas corpus*.
 - (D) ação civil pública.
 - (E) mandado de injunção.
44. Considere a seguinte hipótese: o Governador, por meio de lei de sua iniciativa, devidamente aprovada pela Assembleia Legislativa, criou vários cargos comissionados, de livre nomeação e exoneração, para as Polícias Civil e Militar. Segundo o que dispõe a Constituição Federal sobre a matéria, é correto afirmar que a criação desses cargos
- (A) é constitucional, independentemente das suas respectivas atribuições, uma vez que foram criados por meio de lei de iniciativa do Chefe do Poder Executivo.
 - (B) é inconstitucional porque nas Polícias Civil e Militar não podem existir cargos comissionados, ainda que criados por meio de lei de iniciativa do Governador.
 - (C) é constitucional apenas quanto aos cargos destinados à Polícia Civil, pois na área militar não podem existir cargos comissionados, de livre nomeação e exoneração.
 - (D) poderá ser considerada constitucional, em relação a ambas às Polícias, desde que os cargos sejam destinados às atribuições de direção, chefia ou assessoramento.
 - (E) é inconstitucional, uma vez que projetos de lei nessa área devem partir da iniciativa da própria Assembleia Legislativa, e não do Chefe do Poder Executivo.
45. Afrodite é Prefeita Municipal e desapropriou um imóvel de propriedade de Ísis para a construção de um hospital, mas, embora a desapropriação tenha sido feita nos termos da lei, seu intento era vingar-se de Ísis, sua adversária política. Nessa hipótese, segundo o regime jurídico dos atos administrativos, o ato de Afrodite
- (A) é legal, pois está de acordo com a lei, e é moral, por beneficiar a população.
 - (B) contém vício de desvio de finalidade.
 - (C) contém vício formal.
 - (D) contém vício de competência.
 - (E) será legal se o hospital for efetivamente construído.
46. A sua presença em contratos administrativos é característica marcante do regime jurídico administrativo:
- (A) cláusulas leoninas.
 - (B) cláusulas exorbitantes.
 - (C) cláusulas justas.
 - (D) multas contratuais.
 - (E) rescisão bilateral.
47. Assinale a alternativa correta a respeito do poder de polícia administrativa.
- (A) O seu exercício regular é fato gerador da cobrança dos impostos pelo poder público.
 - (B) As restrições por ele impostas não podem atingir ou condicionar os direitos individuais do cidadão, sob pena de nulidade.
 - (C) Ele é discricionário, como regra, e são atributos seus a discricionariedade, a autoexecutoriedade e a coercibilidade.
 - (D) Via de regra, ele atua preventivamente, e agindo repressivamente tem por objetivo reprimir as infrações penais.
 - (E) Ele é típico das competências do Poder Executivo, sendo vedado o seu exercício aos demais Poderes.
48. é um exemplo do exercício do poder disciplinar:
- (A) a edição de decreto do Chefe do Poder Executivo regulamentando uma lei.
 - (B) a sentença de um juiz criminal que aplica multa ao autor de infração penal.
 - (C) a distribuição de funções em um órgão, estabelecendo a relação de subordinação entre os seus servidores.
 - (D) a responsabilização administrativa dos servidores públicos pelas faltas porventura cometidas.
 - (E) ordenar, coordenar, controlar e corrigir as atividades administrativas, no âmbito interno da Administração Pública.

49. Suponha que Ubaldo, servidor público estadual, no exercício de suas funções, deixou de praticar um ato e, por conta dessa conduta omissiva, veio a causar danos a um cidadão. Considerando essa situação hipotética e o disposto na Constituição Federal, é correto afirmar que
- (A) o Estado deve indenizar os danos do cidadão, e Ubaldo deve responder, regressivamente, perante o Estado, se agiu com dolo ou culpa.
 - (B) Ubaldo responde diretamente pelos danos que causou ao cidadão, e a responsabilidade do Estado deve ser oportunamente apurada.
 - (C) o Estado não deverá responder nesse caso, tendo em vista que não há responsabilidade estatal quando o dano ocorre por conduta omissiva do servidor.
 - (D) o Estado e Ubaldo respondem solidariamente pelos danos causados ao cidadão, na proporção da sua culpabilidade.
 - (E) a responsabilidade do Estado é subsidiária em relação a Ubaldo, este respondendo primeiramente pelos danos que causou ao cidadão.
50. Tendo em vista o que estabelece a Constituição Federal no tocante à segurança pública, assinale a alternativa correta.
- (A) Cabe à Polícia Civil prevenir e reprimir o tráfico ilícito de entorpecentes e drogas afins, o contrabando e o descaminho.
 - (B) Exercer as funções de polícia marítima, aeroportuária e de fronteiras é competência da Guarda Nacional.
 - (C) Às polícias civis, dirigidas por delegados de polícia, incumbem as funções de polícia judiciária e a apuração de infrações penais, incluindo as militares.
 - (D) Os Municípios poderão constituir guardas municipais destinadas ao policiamento preventivo e ostensivo, dentro do seu território, bem como à proteção de seus bens, serviços e instalações.
 - (E) As polícias militares e os corpos de bombeiros militares, forças auxiliares e reserva do Exército subordinam-se aos Governadores dos Estados, do Distrito Federal e dos Territórios.
51. Considere que o Estado de Roraima deseja ampliar uma área de reserva ambiental em terreno de sua propriedade. Para implementar essa medida, de acordo com a Constituição do Estado de Roraima, é necessário(a)
- (A) que o Governador do Estado edite uma medida provisória.
 - (B) que o Órgão Ambiental Estadual e o Ministério Público Estadual se manifestem previamente.
 - (C) prévia autorização legislativa, que só poderá ser aprovada pelo voto favorável de 2/3 (dois terços) dos membros da Assembleia Legislativa.
 - (D) oitiva prévia do IBAMA, do Órgão Ambiental Estadual, da Procuradoria-Geral do Estado e do Ministério Público Estadual.
 - (E) prévia autorização legislativa, que só poderá ser aprovada pelo voto favorável de pelo menos metade dos membros da Assembleia Legislativa.
52. Considere que terminou hoje o exercício do mandato de José como Governador do Estado de Roraima. Com base na situação hipotética e no disposto na Constituição do Estado de Roraima, é correto afirmar que
- (A) nos próximos 2 (dois) anos José terá direito à segurança policial militar, com o efetivo máximo de 4 (quatro) homens.
 - (B) José terá direito a receber, durante dez anos, um subsídio mensal equivalente a 50% (cinquenta por cento) da remuneração que ele recebia enquanto era Governador.
 - (C) nos 5 (cinco) anos seguintes José terá segurança policial civil, com o efetivo máximo de 5 (cinco) homens.
 - (D) José terá direito a receber, durante quatro anos, um subsídio mensal equivalente a 60% (sessenta por cento) da remuneração que ele recebia enquanto era Governador.
 - (E) nos 4 (quatro) anos posteriores José terá direito à segurança policial militar ou civil, à sua escolha, com o efetivo máximo de 6 (seis) homens.

53. Considere que Luan é servidor público do Estado de Roraima lotado na cidade de Boa Vista, mas, por interesse da administração, ele passará a ter exercício em nova sede, na cidade de São João da Baliza. Com base na situação hipotética e no disposto na Lei Complementar Estadual nº 053/2001, é correto afirmar:
- (A) considerando que as cidades ficam a menos de 300 (trezentos) quilômetros de distância uma da outra, Luan terá direito apenas à indenização de transporte.
 - (B) Luan deverá receber diárias, que serão pagas sempre após o deslocamento entre as cidades.
 - (C) caso Luan receba as diárias indevidamente, fica obrigado a restituí-las integralmente, no prazo de vinte e quatro horas, sob pena da prática de improbidade administrativa.
 - (D) caso ocorra a mudança de domicílio em caráter permanente, Luan receberá ajuda de custo e deverá restituí-la quando, injustificadamente, não se apresentar na nova sede no prazo de dez dias.
 - (E) caso seja estudante, terá assegurado, na nova localidade de residência ou na mais próxima, desde que exista vaga, matrícula em instituição de ensino congênera.
54. De acordo com a Lei Complementar Estadual nº 054/2001, quando houver *déficit* atuarial, a contribuição
- (A) extraordinária de aposentados deverá incidir sobre o valor dos proventos de aposentadoria que supere o dobro do salário-mínimo.
 - (B) ordinária de pensionistas deverá incidir sobre o valor das pensões que supere pelo menos o dobro do salário-mínimo.
 - (C) ordinária de aposentados e pensionistas poderá incidir sobre o valor dos proventos de aposentadoria e de pensões que supere o salário-mínimo.
 - (D) dos aposentados e pensionistas será mantida igual e o Poder Executivo fará um aporte financeiro para cobrir o *déficit*.
 - (E) de aposentados deverá incidir sobre o valor dos proventos de aposentadoria que supere pelo menos o triplo do salário-mínimo.
55. Considere que João, policial civil do Estado de Roraima, foi considerado incapaz, definitivamente, para o serviço policial, aposentando-se. Com base na situação hipotética e no disposto na Lei Complementar Estadual n.º 268/2018, é correto afirmar:
- (A) se João precisar de assistência permanente de outra pessoa, o valor dos proventos da aposentadoria por invalidez será acrescido de 25% (vinte e cinco por cento).
 - (B) caso João receba o acréscimo decorrente da necessidade de ajuda permanente de outra pessoa, tal valor será incorporável ao valor da pensão.
 - (C) João será submetido à avaliação médica pela Junta Médica Oficial do IPER, semestralmente nos 5 (cinco) primeiros anos de aposentadoria, para atestar a permanência das condições que lhe causaram a incapacidade laboral.
 - (D) como João foi considerado incapaz definitivamente para o serviço policial, ele não precisará ser submetido à avaliação medida periódica pela Junta.
 - (E) João será submetido à avaliação médica pela Junta Médica Oficial do IPER anualmente nos 10 (dez) primeiros anos de aposentadoria, para atestar a permanência das condições que lhe causaram a incapacidade laboral.
56. Assinale a alternativa que está de acordo com a Lei Orgânica da Polícia Civil do Estado de Roraima.
- (A) A Polícia Civil é organizada em carreira, estruturada em série de classes, com níveis decrescentes de atribuições e responsabilidades funcionais.
 - (B) O policial civil submetido a estágio probatório deverá obrigatoriamente exercer as funções em unidades policiais do interior do Estado.
 - (C) O policial civil que solicitar exoneração antes de completar o estágio probatório deverá ressarcir à Fazenda Pública o valor pecuniário correspondente.
 - (D) Não será promovido o Policial Civil que estiver preso em decorrência de flagrante delito ou por decisão judicial, mas poderá ser promovido aquele que estiver cumprindo pena de suspensão disciplinar.
 - (E) Admite-se a remoção de policial civil de um para o outro Município, quando em exercício de mandato eletivo na diretoria executiva de sua entidade de classe.

57. Com base na Lei Complementar Estadual nº 55/2001, assinale a alternativa que contempla apenas hipóteses de competência da Chefia da Polícia Civil.
- (A) Suspender o porte de arma de policial civil por conveniência disciplinar ou recomendação médica e opinar sobre projetos de criação e desativação de unidades operacionais.
 - (B) Prover os cargos comissionados do quadro de pessoal da Polícia Civil, observada a legislação em vigor e presidir o Conselho Superior de Polícia Civil.
 - (C) Pronunciar-se sobre matéria relevante, concernente a atributos, funções, princípios e conduta funcional ou particular do policial civil, com reflexos na instituição policial e representar a Polícia Civil nos assuntos técnicos policiais.
 - (D) Promover apuração das infrações penais e transgressões disciplinares atribuídas a servidores policiais civis ou não e impor penas e votar para a promoção do policial civil, por merecimento, bem como por ato de bravura e *post mortem*.
 - (E) Zelar pela observância dos princípios e funções institucionais da Polícia Civil e proferir julgamento, no prazo de trinta dias, prorrogável por igual período, em autos de processos administrativos conclusos.
58. Considere que Berenice, chefe de uma repartição pública, atuará no processo administrativo movido por Marcelo, servidor público. Marcelo vive em união estável com Amanda há três anos e Berenice está litigando judicialmente contra Amanda, em virtude de uma discussão no condomínio em que vivem. Com base na situação hipotética e no disposto na Lei Estadual nº 418/2004, é correto afirmar que Berenice
- (A) apenas seria impedida de atuar no processo administrativo se Marcelo fosse casado com Amanda.
 - (B) deve ser declarada suspeita, sob pena de ser a ela aplicada a pena de advertência.
 - (C) pode ser declarada suspeita, desde que Marcelo faça a alegação em até quarenta e oito horas, contados do momento em que teve ciência que ela atuaria no processo administrativo.
 - (D) deve se declarar impedida, caso se omita do dever de comunicar o impedimento incorrerá em falta grave.
 - (E) apenas seria impedida de atuar no processo administrativo se Marcelo vivesse em união estável com Amanda há pelo menos cinco anos.
59. De acordo com a Lei Estadual nº 498/2005, a execução orçamentária e financeira da Administração Pública Estadual será regulada através de
- (A) medida provisória.
 - (B) lei ordinária.
 - (C) lei complementar.
 - (D) decreto legislativo.
 - (E) decreto executivo.
60. De acordo com a Lei Estadual nº 499/2015, à Casa Civil compete:
- (A) receber, analisar, selecionar e encaminhar o expediente enviado ao Governador, transmitindo e controlando a execução das ordens e determinações dele emanadas.
 - (B) executar, coordenar e controlar as ações estratégicas inerentes aos sistemas corporativos sob sua responsabilidade técnica.
 - (C) promover concursos públicos, salvo nos casos em que essa atribuição for cometida por lei a outros Órgãos ou Entidades.
 - (D) prestar assistência técnica, abrangendo as municipalidades e associações de Municípios no desenvolvimento e aprimoramento de seus serviços e na solução de seus problemas.
 - (E) examinar a regularidade dos atos que resultem em criação ou extinção de direitos e obrigações, na esfera do Poder Executivo do Estado.

